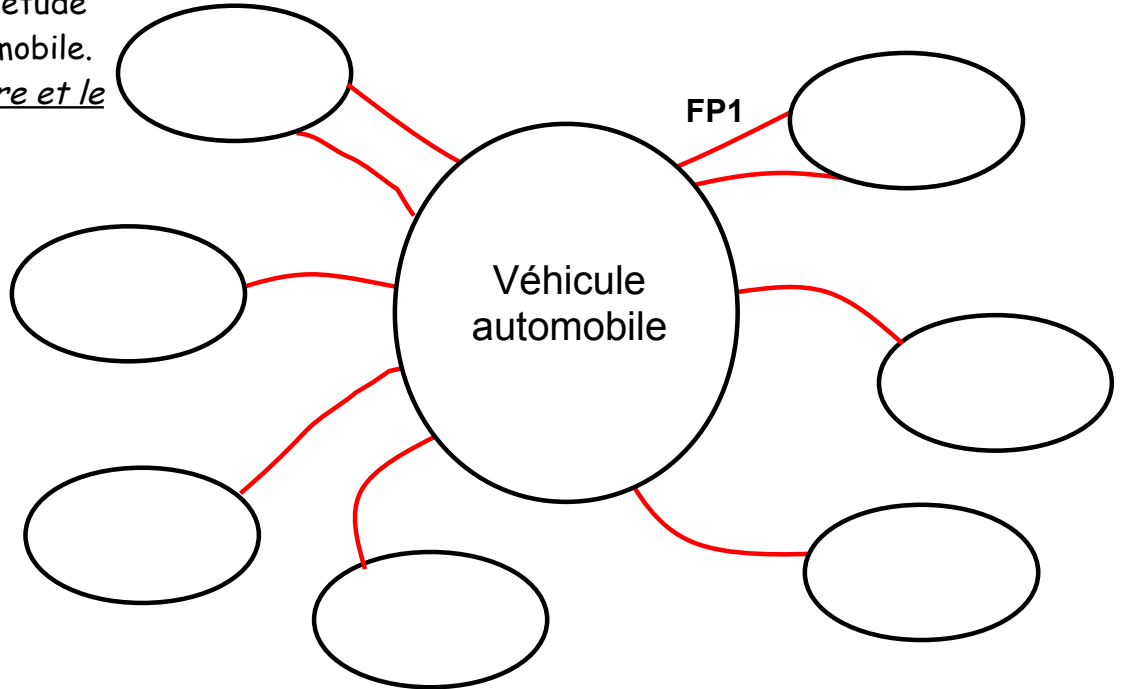


LECTEUR MP4

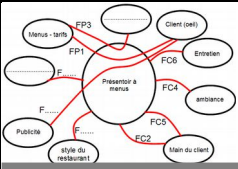
C. JEZEQUO

Nom : Prénom : 3ème

Vous devez faire l'étude d'un véhicule automobile.
Compléter la pieuvre et le tableau



fonction	Énoncé de la fonction
FP1	
FC1	
FC2	
FC3	
FC4	
FC5	
FC6	
FC7	

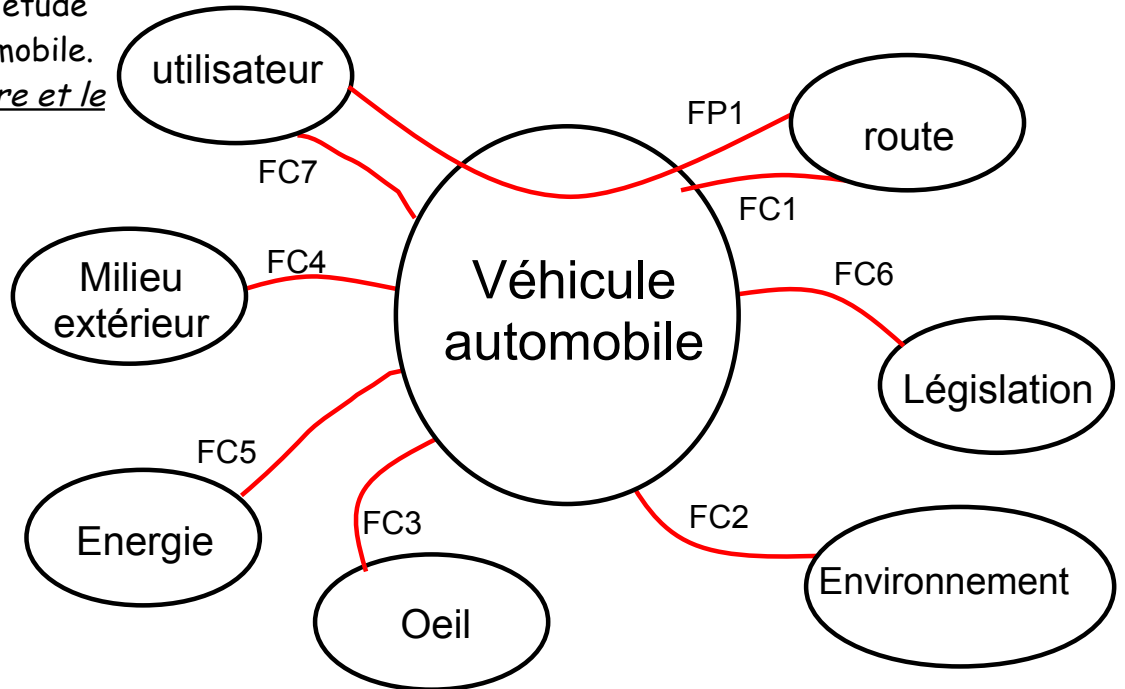


Véhicule automobile

C. JEZEQUO

Nom : Prénom : 3ème

Vous devez faire l'étude d'un véhicule automobile. Compléter la pieuvre et le tableau



fonction	Enoncé de la fonction
FP1	Permettre aux utilisateurs de se déplacer sur la route.
FC1	Rester insensible aux perturbations de la route
FC2	Contribuer au respect de l'environnement.
FC3	Être esthétique.
FC4	Résister au milieu extérieur (pluie, soleil, air... autres usagers)
FC5	Utiliser les énergies disponibles. Ne pas consommer trop.
FC6	Respecter les réglementations
FC7	Être confortable.